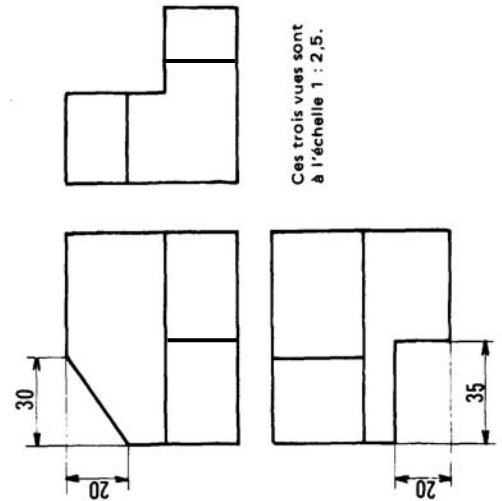
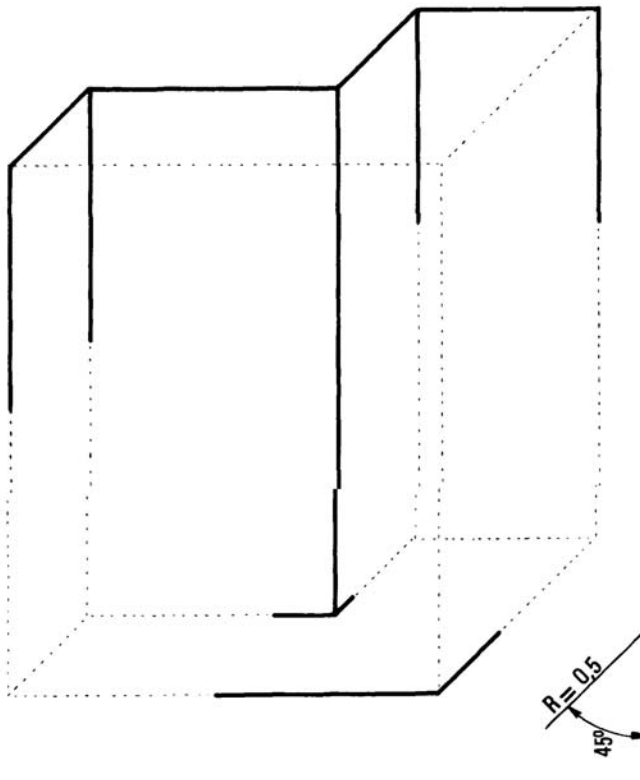




EXERCICE 1

Échelle 1 : 1

Ces trois vues sont
à l'échelle 1 : 2,5. **Données :**

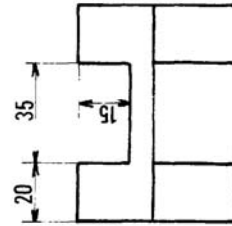
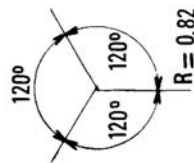
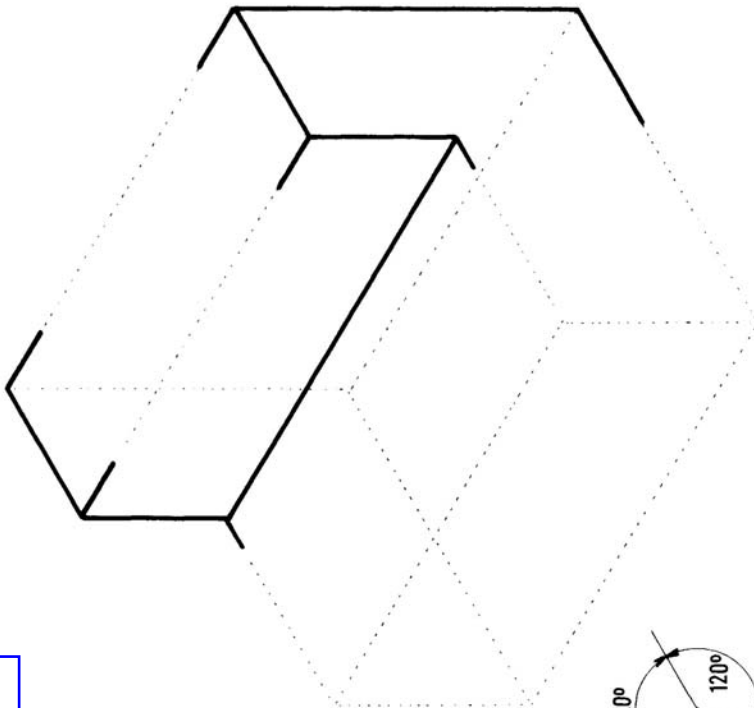
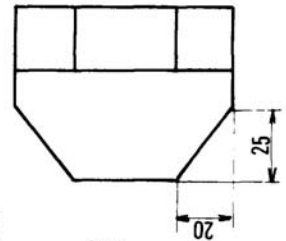
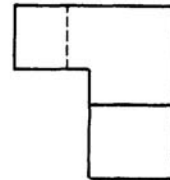
- *Ci-contre*les trois vues d'une butée, à l'échelle 1 : 2,5.
- *Ci-dessus*, à l'échelle 1 : 1, la perspective cavalière inachevée de cette pièce.

 EXERCICE :

- 1) Sur la perspective, esquisser le chanfrein et l'entaille définis sur les vues.
- 2) Faire la mise au net.



Echelle 1 : 1

Ces trois vues sont
à l'échelle 1 : 2,5. **Données :**

- *Ci-contre*, les trois vues d'un support, à l'échelle 1 : 2,5.
- *Ci-dessus*, à l'échelle 1 : 1, la perspective isométrique inachevée de cette pièce.

 EXERCICE :

- 1) Sur la perspective, esquisser la rainure et les deux chanfreins définis sur les vues
- 2) Faire la mise au net.

EXERCICE 2

NOM :

Prénom :

Classe :

Date :